

Nom/ Prénom

1/ Lequel de ces trois hommes n'a pas fait partie du second triumvirat institué en 43 av. JC après la mort de Jules César ? (0,5 point)

- ☐ Lepidus
- ☐ Octave
- ☐ Cicéron
- ☐ Marc Antoine

2/ A partir de quelle date peut-on considérer que le régime républicain est remplacé par le principat progressivement mis en place par Auguste ? (1 point)

- ☐ 31 av. JC
- ☐ 27 av. JC
- ☐ 14 apr. JC

3/ Qu'est-ce que cet objet ? A qui a-t-il été décerné et pourquoi ? (2 points)



4/ Quelle phrase décrit le mieux le Principat tel que l'a conçu Auguste ? (1 point)

- ☐ Le dirigeant est élu par le peuple pour cinq ans.
- ☐ Le dirigeant est omnipotent, mais maintient l'apparence des institutions républicaines.
- ☐ Le dirigeant gouverne de manière tyrannique.

5/ Quel est le sens du titre « Augustus » décerné à Octave par le Sénat ? (1 point)

- ☐ Puissant
- ☐ Dévoué
- ☐ Vénérable
- ☐ Bien aimé

6/ Sur cette image de la dédicace de la colonne Trajane, entourez le PREMIER mot d'une expression qui, dans la titulature du Princeps, indique qu'il est le chef de la religion romaine officielle (1 point)




7/ Dans la titulature commune à tous les princes depuis Auguste, entourez le pouvoir qui leur donne le droit de proposer des lois et d'opposer leur VETO à l'action de tout magistrat, dans toute action, donc le pouvoir qui leur assure la prééminence sur le plan politique (1 point).



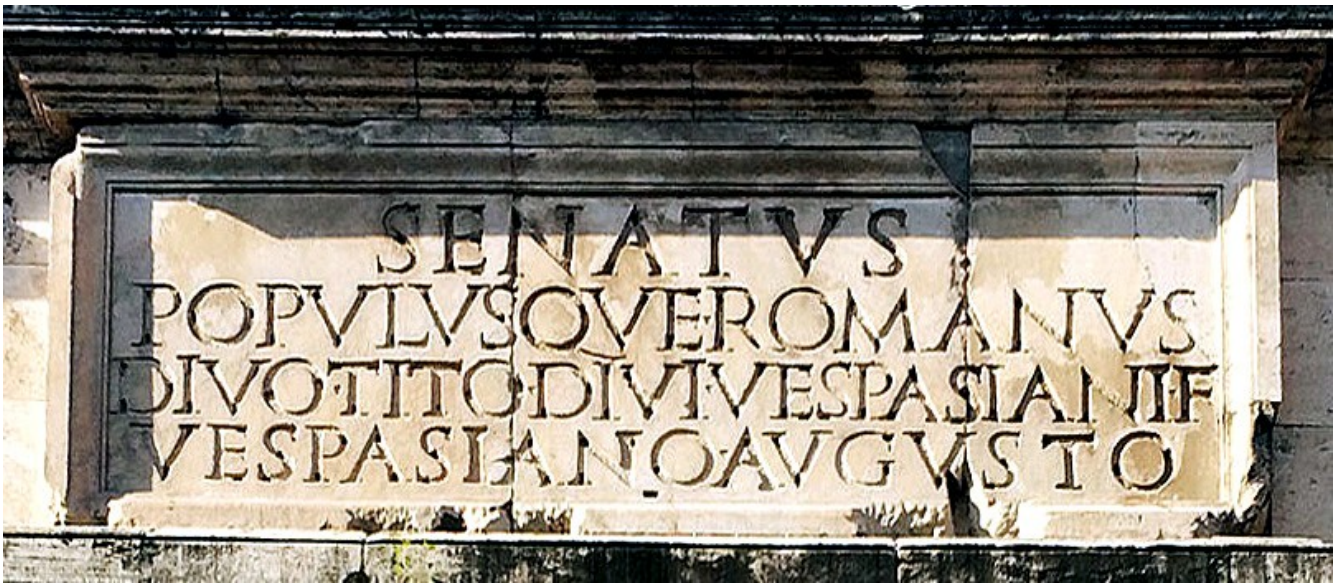
8/ Dans la titulature de Trajan, certains titres correspondent à un pouvoir exécutif/législatif, d'autres à un pouvoir (ou une gloire) militaire, d'autres à un pouvoir ou une essence religieux. Reliez-les dans ce tableau (1,5 points):

Augustus	•	•	pouvoir exécutif / législatif
Dacicus	•		
Pontifex Maximus	•	•	pouvoir (ou gloire) militaire
Consul	•		
Imperator	•		
Tribunicia potestate	•	•	pouvoir ou essence religieux

9/ Voici une reconstitution de l'Ara Pacis Augustae dans son environnement. Identifiez chacun des monuments et/ou bas-reliefs en légendant rapidement les cases blanches, puis précisez en quoi il s'agit de monuments ou de motifs de propagande (7 points).

[illegible]

10/ Voici l’inscription dédicatoire de l’arc de triomphe de Titus à Rome.



SENATUS POPULUSQUE ROMANUS
DIVO TITO DIVI VESPASIANI F[ILIO]
VESPASIANO AVGVSTO
[HOC MONUMENTUM DEDICAVERTUNT]

Vocabulaire :

Titus, i, m : Titus (empereur de 79 à 81 apr.JC) surnommé Vespasien Auguste
Vespasianus, i, m : Vespasien (empereur de 69 à 79 apr.JC)
divus, a, um
dedico, as, are, avi, atum : je dédie qqch à qqu’un

a/ Traduisez cette inscription (2 points) :

.....

.....

.....

.....

.....


b/ Cet arc de triomphe a été dédié (inauguré) du vivant de Titus (rayez la mention inutile) : VRAI - FAUX


Justifiez votre réponse (2 points) :

.....

.....

11/ Vous trouverez en pièce jointe un tableau regroupant de nombreuses images ou réalisations de dirigeants de l'Histoire contemporaine. Quels vous semblent les principaux vecteurs et thèmes de propagande communs avec la propagande mise en œuvre par les Césars dans l'antiquité ? Organisez votre réponse de manière aussi synthétique que possible en multipliant les exemples précis et en utilisant les numéros des légendes pour vous y référer (10 points).





1. Monnaie d'or premier consul




2. Napoléon empereur



3. Arc de triomphe du Carrousel



4. Colonne Vendôme - Paris




5. Mussolini et César



6. 1^{er} anniversaire accession au pouvoir




7. Mussolini haranguant la foule



8. Arc des Philènes - Libye



9. Hitler



10. Défilé militaire nazi




11. Staline - URSS




12. Poutine et Alexandre Nevsky



13. Mao Tse Toung - Chine



14. Bachar el-Assad - Syrie



15. Chute de Saddam Hussein - Irak



16. Kim Il-sung — Corée du Nord